

< 範圍：L5-L6 >

【劃卡代號：51】

班級： 座號： 姓名：

※答案卡限用 2B 鉛筆劃記，答案請劃記明確；若有劃記錯誤，請擦拭乾淨。分數以電腦讀卡分數為準。

一、題組：40 分（10 題，每題 4 分）

（一）閱讀下列資料，回答第 1-2 題

資料一：這場爆發於 1950 年的「統一戰爭」，期間拆散超過七百萬人的家庭，許多人在戰爭期間逃往南方，而自 1953 年起，交戰雙方切斷一切郵件、電話和旅遊等，直到 2000 年，一場歷史性高峰會議後，才有一千二百個家庭經歷悲喜交集的短暫團聚；另還有超過十萬個家庭列在等候名單中。」

資料二：西元 1953 年，位於□□半島的戰爭結束，一萬四千多名被俘中共官兵選擇『自由臺灣』；隔年 1 月 23 日在聯合國的安排下，一萬四千多名中共官兵投奔臺灣；日後便將 1 月 23 日定為『自由日』。

1. ( ) 從兩份資料內容分析，可以判斷這場名為「統一戰爭」的戰役是？  
(A) 八二三炮戰 (B) 越戰 (C) 韓戰 (D) 第二次世界大戰
2. ( ) 關於資料中的這場戰爭，下列敘述何者正確？  
(A) 聯合國曾派兵援助南方的政權 (B) 雙方後來停戰，以北緯度 17 度線為分界線，至今仍然分裂  
(C) 資料中的戰爭指的是越戰 (D) 中共以「抗美援朝」為名，派志願軍支援北方胡志明軍作戰

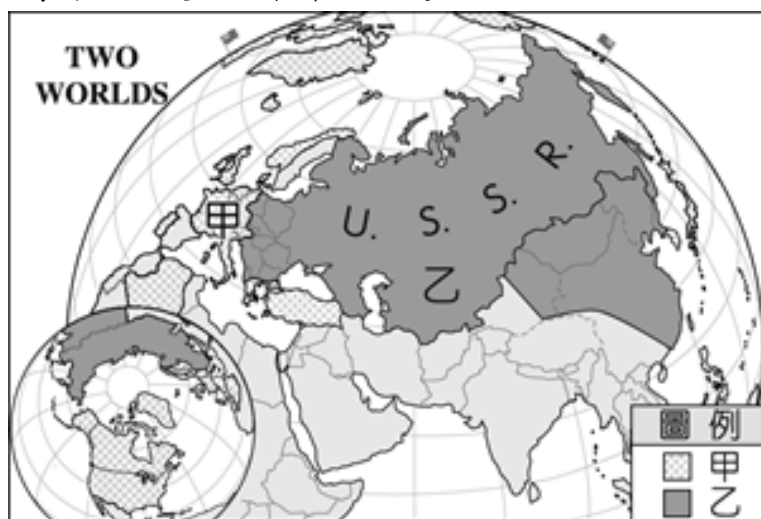
（二）閱讀下列資料，回答第 3-4 題

資料一：5 月 4 日，超過 10 萬人集會遊行，要求民主自由，隨後在天安門廣場靜坐絕食。5 月 20 日，中共宣布戒嚴，下令軍隊進駐北京，「清理」天安門廣場，但因市民一再抵制而徒勞無功。至 6 月 4 日凌晨，武裝部隊以重型坦克為前導，進行鎮壓，造成慘重傷亡。此後，中國的「第五個現代化」，仍然只是口號。（節錄自鄭竹園《大陸政經巨變與中國前途》）

資料二：西元 1989 年 5、6 月間的事件，為「一小撮人」，「利用學生不滿以發動一個有計畫、有組織、有預謀的政治動亂，進而在首都北京發展成反革命暴亂。他們目的在推翻中國共產黨的領導並顛覆社會主義中國。」這不是一場普通的學生運動，而是一個想要否定中國共產黨領導與社會主義體制的政治動亂。（節錄自北京市市長陳希同〈關於制止動亂和平息反革命暴亂的情形報告〉）

3. ( ) 有關資料一的敘述，下列何者正確？  
(A) 契合資料二的立場觀點 (B) 「第五個現代化」是指民主  
(C) 是文化大革命下的結果 (D) 是指民國初年的五四運動
4. ( ) 有關資料二的敘述，應該是下列何者的立場？  
(A) 在野黨的批評 (B) 國際媒體的共識 (C) 北京學生的主張 (D) 執政者的說詞

（三）請觀察下方的宣傳海報之後，回答第 5-6 題：



5. ( ) 請依據圖上的資訊判斷：本圖最可能繪於下列哪個年代？  
(A) 1920 年 (B) 1930 年 (C) 1950 年 (D) 2000 年
6. ( ) 圖中的 U.S.S.R. 是蘇聯的縮寫。請問：甲與乙各代表了哪個勢力？  
(A) 甲：蘇聯盟邦；乙：蘇聯聯合國  
(B) 甲：美國與其盟邦；乙：蘇聯與其盟邦  
(C) 甲：美國與其盟邦；乙：中華人民共和國與其盟邦不結盟運動  
(D) 甲：中華民國與其盟邦；乙：中華人民共和國與其盟邦

(四) 中華人民共和國建國以來，歷經風風雨雨，各時期的宣傳海報或插圖如同見證者，記錄了當時的歷史。請參考下列文宣海報及插圖，並回答第 7-10 題問題：



7. ( ) 中共建國初期，各方面皆落後歐美，為了超英趕美，急起直追，中共領導者展開某項運動，下列哪些最可能是當時用來宣傳的海報？  
 (A) 甲乙 (B) 甲丁 (C) 甲戊 (D) 丁己
8. ( ) 《人民日報》曾刊載一首詩，內容是：「雄赳赳，氣昂昂，跨過鴨綠江……中國好兒女，齊心團結緊。抗美援朝，打敗美帝野心狼！」請問此詩的出現與哪一海報同一時期？  
 (A) 甲 (B) 乙 (C) 丁 (D) 戊
9. ( ) 根據圖(己)的內容判斷，此文宣應出現在下列何者推行的時期？  
 (A) 大躍進 (B) 改革開放 (C) 文化大革命 (D) 抗美援朝
10. ( ) 根據圖丙的內容判斷為中國學生參與的民主學運，最後遭中共政府血腥鎮壓而結束。請問：此學運發生在哪一位領導者在位期間？  
 (A) 鄧小平 (B) 毛澤東 (C) 習近平 (D) 蔣中正

二、選擇題：60分(20題，每題3分)

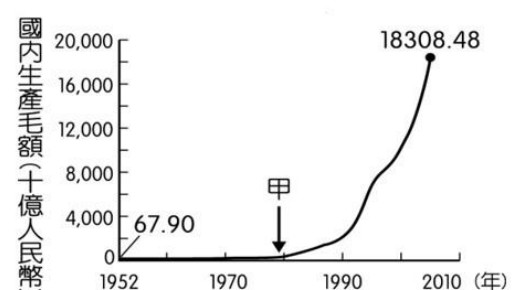
11. ( ) (甲)設置「經濟特區」開放 (乙)發表「抗美援朝」宣言，參加韓戰  
 (丙)提出「和平統戰」政策 (丁)1970年代，中共與美國建交。

以上哪些是在鄧小平任內的主張或成就？

- (A) 甲乙丙丁 (B) 甲乙丙 (C) 乙丙丁 (D) 甲丙丁
12. ( ) 阿真正在整理課本所說的國際組織的特點，如右圖，表中哪些項目整理正確？  
 (A) 甲乙丙 (B) 乙丙丁 (C) 甲丙丁 (D) 甲乙丙丁

	東南亞公約組織	東南亞國家協會
甲：會旗		
乙：目的	圍堵共產勢力的擴張	東南亞國家的區域統合
丙：開始時間	冷戰期間	冷戰期間
丁：結束時間	~ 迄今	1977年解散

13. ( ) 右圖呈現中國 1952 年至 2005 年國內生產毛額的數據資料。圖中曲線從甲處後有明顯變動的情況，最可能與下列何者有關？  
 (A) 利用越戰爆發契機，提高進口關稅  
 (B) 利用韓戰提倡生產武器，並銷售到國外  
 (C) 發動文化大革命，進行全面的改造  
 (D) 實施改革開放政策，引進外來資金與技術





14. ( ) 下列四幅漫畫是中共建立後所發生的四個事件。請依時間先後順序加以排列？



(A) 乙→甲→丁→丙 (B) 甲→乙→丙→丁 (C) 乙→丙→甲→丁 (D) 丁→丙→甲→乙

15. ( ) 美國《時代雜誌》曾刊載一張照片，是西元 1971 年美國桌球協會到中國參訪時在長城所留下的合影。在協會訪華期間，美國總統也宣布一系列對華開禁的措施，隔年中國桌球隊亦回訪美國，媒體稱兩方為「乒乓外交」，下列相關的敘述，何者正確？

(A) 「乒乓外交」由蘇聯主導 (B) 當時美國總統是尼克森，其曾訪問中國  
(C) 這年美國與中華民國斷交 (D) 美國拉攏中國，的目的主要是為制衡北韓

16. ( ) 以下是某人在回憶錄中提到的童年經歷：「我記得就讀小學五年級，都和社員們一起參加集體生產勞動和一起吃食堂，但糧食的連年減產……，後來餓死人的消息頻繁傳來，一開始大家難以相信，但時間一久，大家就習以為常了。後來大多數人飢餓難耐時，就是一邊幹活一邊偷吃田裡的作物，不管是生食或熟食，也不管是否會被社幹部發現，然後被處罰……。」此人的童年經歷最可能發生於下列何時？

(A) 1910 年代~1920 年代軍閥割據期間 (B) 1930 年代~1940 年代中日戰爭時期  
(C) 1950 年代~1960 年代大躍進運動期間 (D) 1960 年代~1970 年代文化大革命時期

17. ( ) 中華人民共和國在 1949 年建國後，開始進行一連串的整肅行動，尤其是從 1956 年開始的「大鳴大放」運動，導致當時許多知識分子被冠上反左派。十年後，毛澤東再度對知識分子進行迫害，其應指下列何者？

(A) 土地改革 (B) 大躍進運動 (C) 文化大革命 (D) 六四天安門事件

18. ( ) 右圖為 1959 年代，法國共產黨繪製的「分布於世界各地的美軍基地圖」其用意指控美國於當時在世界各地設立軍事基地，且在亞太地區建立圍堵體系，試圖打壓共產國家。(甲) 臺灣 (乙) 北越 (丙) 南韓 (丁) 菲律賓 (戊) 北韓，上列那些國家在此時屬於圍堵體系的一員？

(A) 甲乙丙 (B) 甲丙丁 (C) 乙丙丁 (D) 丙丁戊



19. ( ) 位於越南胡志明市阮惠街上，有一棟建於 20 世紀中期的 10 層樓老舊公寓，現今被改造成一棟咖啡公寓，於 1950 至 1960 年代該建築曾是美軍顧問住所，1975 年後則變成越南海軍辦公室。請問：這棟新舊交融的建築物，見證哪一段歷史痕跡？

(A) 第一次世界大戰前，法國的侵略擴張行動 (B) 清末鴉片戰爭後，列強對亞洲的殖民野心  
(C) 第二次世界大戰後，區域統合的合作互惠 (D) 第二次世界大戰後，美蘇兩大陣營的衝突

20. ( ) 中共前領導者鄧小平曾批評某項政策：「□□使全國人民十年思想混亂，影響整整一代人的成長……大家不守倫理道德，認為標新立異、我行我素就是民主自由，建立新世界。其實不守紀律、我行我素才是破壞民主。」關於文中□□政策的敘述，何者正確？

(A) 目的：提升中國的經濟與民主發展 (B) 手段：批鬥師長和知識分子  
(C) 口號：「吃飯不要錢，往大食堂跑」 (D) 影響：糧食不足、過度勞動

21. ( ) 1954 年，美國某位國務卿召開記者會，宣告即將與中華民國外交部部長簽約，是要讓兩國未來的共同軍事合作，能有長期正式條約作為依據。請問：該約最可能為下列何者？

(A) 開羅宣言 (B) 臺灣關係法 (C) 雅爾達密約 (D) 中美共同防禦條約

22. ( ) 下列文件是黃老師研究中共建國發展歷程時所查到的資料，根據內容，何者應為該文件描述產生的影響？

**以互助合作方式從事集體生產，由政府設立公共食堂，讓公社成員在無顧忌的狀態下戮力生產，這樣超英趕美的日子就指日可待了。**

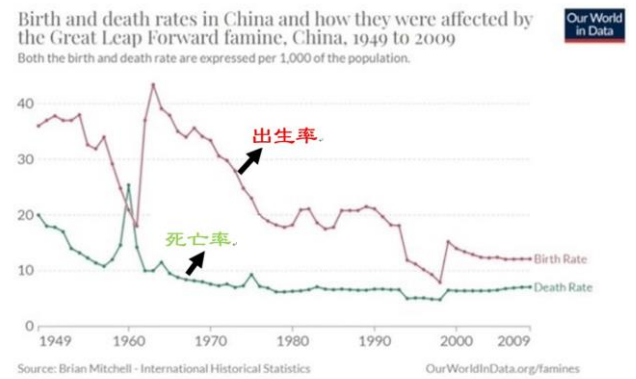
(A) 農產量倍增，人民足以安居樂業生活 (B) 促使毛澤東的領導政黨地位更加穩固  
(C) 人民更加堅信共產主義創造均富社會 (D) 農村瀰漫生產低落、浮報總產量風氣

23. ( ) 韓戰爆發時，小弘響應政府的徵召加入志願軍，北京高層下達的指令是協助友軍，並保護友軍的通訊及戰備的暢通，下列何者應是小弘要保護的目標？

- (A) 中華民國載貨的貨船 (B) 北韓官員乘坐的火車  
(C) 南韓軍方設置的油庫 (D) 聯合國部隊建的鐵橋

24. ( ) 右圖是 1949 至 2000 年中國人口出生與死亡率估算值而繪製的曲線圖，圖中 1950 年代末期至 1960 年代初期之間死亡率的變化，最可能與下列何者有關？

- (A) 人民響應抗美援朝，參與韓戰而造成傷亡慘重  
(B) 文化大革命時，紅衛兵鬥爭造成眾多人口死亡  
(C) 六四天安門事件爆發政府鎮壓大量抗議群眾  
(D) 大躍進運動期間，政策失當所導致的嚴重饑荒



25. ( ) 某中共領導人接見日本國會議員時提到：「戰後日本很快就發達起來，這經驗很值得中國學習。但別人的經驗照搬也不行，中國有中國的條件，日本有日本的條件。我們不但要引進發達國家的資金和技術，充分利用各國的好經驗，並且要把這種經驗與中國的實際情況結合起來。」上述談話最可能與下列何者有關？

- (A) 發起文化大革命，破四舊、立四新 (B) 推動農工大躍進，超英趕美  
(C) 沒收地主土地，分配給多數的貧農 (D) 實施改革開放，設經濟特區

26. ( ) 評論家指出，1950 年代中國曾和蘇聯友好，但因後來實施「甲政策」爭辯路線，認為蘇聯干預內政，試圖擺脫其控制，導致兩國於 1960 年代關係生變。請問：上述的「甲政策」是指下列何者？

- (A) 土地公有政策 (B) 大躍進政策 (C) 改革開放政策 (D) 破四舊立四新政策

27. ( ) 1950 年代，美國為了圍堵亞洲共產國家的強盛，因此仿效歐洲北大西洋公約國家組織，也積極在亞洲推動反共組織的成立。但因為後來種種原因導致，最後這個反共組織已解散。請問：該組織主要是為了圍堵下列哪個國家而成立？

- (A) 中華人民共和國 (B) 中華民國 (C) 日本 (D) 南韓

28. ( ) 某書寫到：「此時只有軍心渙散、無法提供足夠防護力的軍人來保護美國大使館，首都市區已經陷於火海之中，美國艦隊已經在外海待命，等的就是一聲令下，開始撤離行動。」請問：符合該書描述的時地選項是下列何者？

- (A) 1949 年，南京 (B) 1975 年，越南西貢 (C) 1979 年，臺北 (D) 1953 年，韓國漢城

29. ( ) 是某一時期戰爭的政治宣傳漫畫，圖中「大手」代表當時的國際組織，領導各國對抗侵略者。根據內容判斷，該國際組織最可能是下列何者？

- (A) 聯合國 (B) 東南亞公約組織  
(C) 東南亞國家協會 (D) 西太平洋防禦陣線



30. ( ) 中國於 1970 年代末推動的改革開放政策，帶動經濟快速成長，但是卻加深區域發展失衡現象。下列關於中國的新聞報導，何者最能反映中國區域發展不均的現象？

- (A) 農曆春節將湧現數億人次返鄉人潮，堪稱地表最大規模的人口移動  
(B) 今年出現的多起沙塵暴，已直接威脅北京、上海及南京等大都市  
(C) 南方近年降雨減少，旱象環生，南水北調將威脅南方用水的供應量  
(D) 推動海上絲路計畫，發展從中國沿海港口經印度洋至歐洲的航線